

ВСЕРОССИЙСКАЯ ОЛИМПИАДА ШКОЛЬНИКОВ

Пригласительный этап 2023 г.

История. 4-5 классы

Критерии оценивания

Номер задания	Тип задания	Критерии оценивания
1	Выбор одного ответа	Верный ответ – 1 балл
2	Выбор одного ответа	Верный ответ – 1 балл
3	Выбор одного ответа	Верный ответ – 1 балл
4	Выбор одного ответа	Верный ответ – 1 балл
5	Установить соответствие	За каждую верную пару – 1 балл. Всего – 5 баллов
6	Установить соответствие	За каждую верную пару – 1 балл. Всего – 6 баллов
7	Установить соответствие	За каждую верную пару – 1 балл. Всего – 5 баллов
8	Установить соответствие	За каждую верную пару – 1 балл. Всего – 5 баллов
9.1	Выбор одного ответа	Верный ответ – 1 балл
9.2	Выбор одного ответа	Верный ответ – 1 балл
9.3	Выбор одного ответа	Верный ответ – 1 балл

Всего: 28 баллов

Пригласительный этап ВсОШ в городе Москве, история, 4–5 класс, 2023

13 апр 2023 г., 09:55 — 14 апр 2023 г., 21:15

№ 1

1 балл

Историки изучают прошлое человечества во взаимодействии с учёными – представителями целого ряда научных дисциплин. Укажите дисциплину, которая помогает в изучении и восстановлении физического облика древних людей.

археология

этнология

антропология

палеография

№ 2

1 балл

Укажите область, в которой в 1927 г. были впервые обнаружены останки синантропа.

Западная Азия

Юго-Восточная Африка

Восточная Азия

Южная Европа

№ 3

1 балл

Укажите древнейшее орудие труда.

мотыга

плуг

рубило

соха

№ 4

1 балл

Укажите, когда, по данным современной исторической науки, начался ледниковый период.

около 100 тысяч лет назад

около 12 тысяч лет назад



в середине 4-го тысячелетия до н. э.

в первой половине 1-го тысячелетия до н. э.

№ 5

5 баллов







Расположите события в хронологической последовательности от раннего к позднему.

1			появление человека современного вида
2			возникновение земледелия
3			начало бронзового века
4			возникновение первых городов-государств
5			победа Южного Египта над Северным

№ 6

6 баллов

Установите соответствие между битвами и историческими деятелями, принимавшими в них участие.

БИТВА		ИСТОРИЧЕСКИЙ ДЕЯТЕЛЬ
битва при Гавгамелах		Фемистокл
битва при Каннах		Гай Юлий Цезарь
битва при Саламине		Леонид
сражение у Фермопил		Ганнибал
переход через Рубикон		Александр Македонский
битва на Каталаунских полях		Аэций

5 баллов


Рассмотрите рекламный проспект экскурсионного тура и размещённые ниже иллюстрации, использованные для составления коллажа, представленного на рекламном проспекте.



А



Б




В








скелет и изображение неандертальского человека

Г



Д

Установите соответствие между маршрутной точкой на рекламном проспекте и связанной с ней иллюстрацией.

1	A 
2	Б 
3	B 
4	Г 
5	Д 

№ 8

5 баллов

Установите последовательность создания памятников искусства, представленных на иллюстрациях.

1



2



3



4



5



№ 9

3 балла

Рассмотрите карту и выполните предложенные задания.



Укажите цифру, которой обозначен древнейший земледельческий район в истории человечества.

1

2

3

4

5

Укажите цифру, которой обозначено место расположения пещеры Ласко, в которой были найдены наскальные изображения животных.

1

2

3

4

5

Укажите цифру, которой обозначено место, где Луис Лики нашёл останки древнейшего первобытного человека.

1

2

3

4

5